



НОМЕР КИМ

Инструкция по выполнению работы

Работа состоит из двух частей, включающих в себя 15 заданий. Часть 1 содержит 10 заданий с кратким ответом; часть 2 содержит 5 заданий, которые необходимо выполнить на компьютере.

На выполнение работы по информатике отводится 2 часа 30 минут (150 минут). Вы можете самостоятельно определять время, которое отводите на выполнение заданий, но рекомендуемое время на выполнение заданий части 1 – 30 минут, на выполнение заданий части 2 – 2 часа (120 минут).

Ответы к заданиям 1–12 записываются в виде числа, слова, последовательности букв или цифр. Ответ запишите в поле ответа в тексте работы, а затем перенесите в бланк ответов № 1.

Результатом выполнения каждого из заданий 13–15 является отдельный файл. Формат файла, его имя и каталог для сохранения Вам сообщат организаторы экзамена.

Все бланки заполняются яркими чёрными чернилами. Допускается использование гелевой или капиллярной ручки.

При выполнении заданий можно пользоваться черновиком. **Записи в черновике, а также в тексте контрольных измерительных материалов не учитываются при оценивании работы.**

Баллы, полученные Вами за выполненные задания, суммируются. Постарайтесь выполнить как можно больше заданий и набрать наибольшее количество баллов.

После завершения работы проверьте, чтобы ответ на каждое задание в бланке ответов № 1 был записан под правильным номером.

Желаем успеха!

Часть 1

Ответами к заданиям 1–10 являются число, слово, последовательность букв или цифр. Ответы укажите сначала в тексте работы, а затем перенесите в БЛАНК ОТВЕТОВ № 1 справа от номера соответствующего задания, начиная с первой клеточки, без пробелов, запятых и других дополнительных символов. Каждый символ пишите в отдельной клеточке в соответствии с приведёнными в бланке образцами.

- 1 В кодировке КОИ-8 каждый символ кодируется 8 битами. Ученица написала текст (в нём нет лишних пробелов):

«Предметы мебели: пуф, стул, диван, кресло, кровать, тумбочка, оттоманка, полукресло, раскладушка».

Ученица удалила из списка название одного предмета, а также лишние запятую и пробел – два пробела не должны идти подряд.

При этом размер нового предложения в данной кодировке оказался на 11 байт меньше, чем размер исходного предложения. Напишите в ответе удалённое название предмета.

Ответ: _____.

- 2 Валя шифрует русские слова (последовательности букв), записывая вместо каждой буквы её код. Коды букв даны в таблице.

А	Д	К	Н	О	С
01	100	101	10	111	000

Некоторые цепочки можно расшифровать несколькими способами. Например, 00010101 может означать не только СКА, но и СНК.

Даны три кодовые цепочки:

10111101

1010110

10111000

Найдите среди них ту, которая имеет только одну расшифровку, и запишите в ответе расшифрованное слово.

Ответ: _____.

- 3 Напишите наибольшее натуральное число x , для которого ИСТИННО высказывание:

$(x < 5)$ **И НЕ** $(x < 4)$.

Ответ: _____.



- 4 Между населёнными пунктами А, В, С, D, Е построены дороги, протяжённость которых (в километрах) приведена в таблице.

	А	В	С	D	Е
А		1	1		4
В	1			3	3
С	1			2	1
D		3	2		5
Е	4	3	1	5	

Определите длину кратчайшего пути между пунктами А и Е. Передвигаться можно только по дорогам, протяжённость которых указана в таблице. Каждый пункт можно посетить только один раз.

Ответ: _____.

- 5 У исполнителя Вычислитель две команды, которым присвоены номера:

- прибавь 3
- умножь на 3

Первая из них увеличивает число на экране на 3, вторая утраивает его. Составьте алгоритм получения из числа 1 числа 66, содержащий не более пяти команд. В ответе запишите только номера команд.

(Например, 21211 – это алгоритм:

умножь на 3

прибавь 3

умножь на 3

прибавь 3

прибавь 3,

который преобразует число 2 в число 33.)

Если таких алгоритмов более одного, то запишите любой из них.

Ответ: _____.

- 6 Ниже приведена программа, записанная на пяти языках программирования.

Алгоритмический язык	Паскаль
<pre> алг нач цел s, t, A ввод s ввод t ввод A если s > 10 или t > A то вывод "YES" иначе вывод "NO" все кон </pre>	<pre> var s, t, A: integer; begin readln(s); readln(t); readln(A); if (s > 10) or (t > A) then writeln("YES") else writeln("NO") end. </pre>
Бейсик	Python
<pre> DIM s, t, A AS INTEGER INPUT s INPUT t INPUT A IF s > 10 OR t > A THEN PRINT "YES" ELSE PRINT "NO" ENDIF </pre>	<pre> s = int(input()) t = int(input()) A = int(input()) if (s > 10) or (t > A): print("YES") else: print("NO") </pre>
C++	
<pre> #include <iostream> using namespace std; int main(){ int s, t, A; cin >> s; cin >> t; cin >> A; if (s > 10) or (t > A) cout << "YES" << endl; else cout << "NO" << endl; return 0; } </pre>	

Было проведено 9 запусков программы, при которых в качестве значений переменных s и t вводились следующие пары чисел:

(1, 2); (11, 2); (1, 12); (11, 12); (-11, -12); (-11, 12); (-12, 11); (10, 10); (10, 5).

Укажите количество целых значений параметра A , при которых для указанных входных данных программа напечатает «NO» три раза.

Ответ: _____.

- 7 Доступ к файлу **page.htm**, находящемуся на сервере **book.ru**, осуществляется по протоколу **http**. В таблице фрагменты адреса файла закодированы цифрами от 1 до 7. Запишите последовательность этих цифр, кодирующую адрес указанного файла в сети Интернет.

- 1) /
- 2) page
- 3) ://
- 4) .ru
- 5) .htm
- 6) book
- 7) http

Ответ:

--	--	--	--	--	--	--	--

- 8 В языке запросов поискового сервера для обозначения логической операции «ИЛИ» используется символ «|», а для логической операции «И» – символ «&».

В таблице приведены запросы и количество найденных по ним страниц некоторого сегмента сети Интернет.

Запрос	Найдено страниц (в тысячах)
<i>Майами</i>	4220
<i>Чикаго</i>	3600
<i>Чикаго Майами</i>	5900

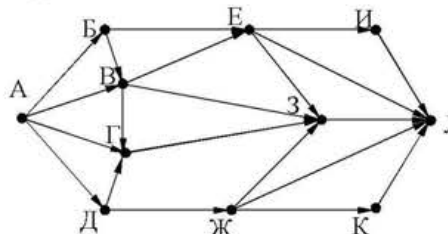
Какое количество страниц (в тысячах) будет найдено по запросу
Чикаго & Майами?

Считается, что все запросы выполнялись практически одновременно, так что набор страниц, содержащих все искомые слова, не изменялся за время выполнения запросов.

Ответ: _____.



- 9 На рисунке – схема дорог, связывающих города А, Б, В, Г, Д, Е, Ж, З, И, К и Л. По каждой дороге можно двигаться только в одном направлении, указанном стрелкой. Сколько существует различных путей из города А в город Л?



Ответ: _____.

- 10 Переведите двоичное число 1010101 в десятичную систему счисления.

Ответ: _____.

Часть 2

Задания этой части (11–15) выполняются на компьютере. Ответами к заданиям 11, 12 являются слово или число, которые следует записать в БЛАНК ОТВЕТОВ № 1 справа от номера соответствующего задания, начиная с первой клеточки. Каждый символ пишете в отдельной клеточке в соответствии с приведёнными в бланке образцами. Результатом выполнения заданий 13–15 является отдельный файл (для одного задания – один файл). Формат файла, его имя и каталог для сохранения Вам сообщат организаторы экзамена.

- 11 В одном из произведений А.П. Чехова, текст которого приведён в подкаталоге каталога **Проза**, присутствует эпизод, в котором девица Подзатылкина в доме своих почтенных родителей была объявлена невестой. С помощью поисковых средств операционной системы и текстового редактора выясните фамилию жениха.

Ответ: _____.

- 12 Сколько файлов объёмом менее 90 Кб каждый содержится в подкаталогах каталога **ДЕМО-12**? В ответе укажите только число.

Ответ: _____.



Не забудьте перенести все ответы на задания 1–12 в бланк ответов № 1 в соответствии с инструкцией по выполнению работы. Проверьте, чтобы каждый ответ был записан в строке с номером соответствующего задания.



Выберите ОДНО из предложенных ниже заданий: 13.1 или 13.2.

- 13.1 Используя информацию и иллюстративный материал, содержащийся в каталоге DEMO-13, создайте презентацию из трёх слайдов на тему «Тигр». В презентации должны содержаться краткие иллюстрированные сведения о внешнем виде, ареале обитания, образе жизни и рационе тигров. Все слайды должны быть выполнены в едином стиле, каждый слайд должен быть озаглавлен.

Презентацию сохраните в файле, имя которого Вам сообщат организаторы экзамена.

Требования к оформлению работы

1. Ровно три слайда без анимации. Параметры страницы (слайда): экран (16:9), ориентация альбомная.
2. Содержание, структура, форматирование шрифта и размещение изображений на слайдах:
 - первый слайд – титульный слайд с названием презентации, в подзаголовке титульного слайда в качестве информации об авторе презентации указывается идентификационный номер участника экзамена;
 - второй слайд – основная информация в соответствии с заданием, размещённая по образцу на рисунке макета слайда 2:
 - заголовок слайда;
 - два изображения;
 - два блока текста;
 - третий слайд – дополнительная информация по теме презентации, размещённая по образцу на рисунке макета слайда 3:
 - заголовок слайда;
 - три изображения;
 - три блока текста.

<div style="border: 1px solid black; padding: 5px; margin-bottom: 5px; text-align: center;">Название презентации</div> <div style="border: 1px solid black; padding: 5px; margin-bottom: 5px; text-align: center;">Информация об авторе</div>	<p>Макет 1 слайда Тема презентации</p>
---	--



	<p>Макет 2 слайда Основная информация по теме презентации</p>
	<p>Макет 3 слайда Дополнительная информация по теме презентации</p>

В презентации должен использоваться единый тип шрифта.

Размер шрифта для названия презентации на титульном слайде – 40 пунктов, для подзаголовка на титульном слайде и заголовков слайдов – 24 пункта, для подзаголовков на втором и третьем слайдах и для основного текста – 20 пунктов.

Текст не должен перекрывать основные изображения и сливаться с фоном.

13.2 Создайте в текстовом редакторе документ и напишите в нём следующий текст, точно воспроизведя всё оформление текста, имеющееся в образце.

Данный текст должен быть набран шрифтом размером 14 пунктов обычного начертания. Отступ первой строки первого абзаца основного текста – 1 см. Расстояние между строками текста не менее высоты одинарного, но не более полуторного междустрочного интервала. Основной текст выровнен по ширине; заголовок и текст в ячейках второго столбца таблицы – по центру. Текст в ячейках первого столбца таблицы выровнен по левому краю. В основном тексте и таблице есть слова, выделенные полужирным шрифтом и курсивом или подчёркиванием. Ширина таблицы меньше ширины основного текста. Таблица выровнена на странице по центру.

При этом допустимо, чтобы ширина Вашего текста отличалась от ширины текста в примере, поскольку ширина текста зависит от размеров страницы и полей. В этом случае разбиение текста на строки должно соответствовать стандартной ширине абзаца.

Интервал между текстом и таблицей не менее 12 пунктов, но не более 24 пунктов.

Текст сохраните в файле, имя которого Вам сообщат организаторы.

ЩЕРБЕТ ИЗ БАРБАРИСА

<i>Ингредиенты</i>	<i>Количество</i>
Розовый настой	1 ч. л.
Вода	250 мл
Сок барбариса	100 мл
Сахар	100 г

В кастрюлю налить воду, всыпать сахар, на сильном огне довести до кипения. Получившийся сироп остудить до 40 °С, влить в него барбарисовый сок и розовый настой. После поставить эту массу в холодильник, охладить до 8 °С. Щербет готов!

Из ягод варят варенье, добавляют в напитки, делают щербет, пастилу, конфеты и даже квас.

14

В электронную таблицу занесли данные наблюдения за погодой в течение одного года. Ниже приведены первые пять строк таблицы.

	A	B	C	D	E	F
1	Дата	Температура	Осадки	Давление	Ветер	Скорость ветра
2	1 января	0,7	15,2	748	ЮВ	4,2
3	2 января	0,4	4,6	751	В	4,7
4	3 января	-1,9	1,4	747	С	2,4
5	4 января	-7,7	0,2	752	З	4,7

В столбце А записана дата наблюдения; в столбце В – среднесуточная температура воздуха для указанной даты; в столбце С – количество выпавших осадков (в миллиметрах) для указанной даты; в столбце D – среднесуточное атмосферное давление (в миллиметрах ртутного столба). В столбце E записано направление ветра для указанной даты – одно из восьми возможных значений: «СЗ», «С», «СВ», «В», «ЮВ», «Ю», «ЮЗ», «З».

В столбце F записана среднесуточная скорость ветра (в метрах в секунду). Всего в электронную таблицу были занесены данные по всем 365 дням года в хронологическом порядке.

Выполните задание.

Откройте файл с данной электронной таблицей (расположение файла Вам сообщат организаторы экзамена). На основании данных, содержащихся в этой таблице, выполните задания.

1. Какое среднее количество осадков выпадало за сутки в летние месяцы (июнь, июль, август)? Ответ на этот вопрос запишите в ячейку H2 таблицы.
2. Каким было среднее атмосферное давление в те дни года, когда дул юго-восточный (ЮВ) ветер? Ответ на этот вопрос запишите в ячейку H3 таблицы.
3. Постройте круговую диаграмму, отображающую соотношение количества дней, когда дули ветры «Ю», «ЮЗ» и «ЮВ». Левый верхний угол диаграммы разместите вблизи ячейки G6. В поле диаграммы должны присутствовать легенда (обозначение, какой сектор диаграммы соответствует каким данным) и числовые значения данных, по которым построена диаграмма.

Ответы должны быть вычислены с точностью не менее двух знаков после запятой. Полученную таблицу необходимо сохранить под именем, указанным организаторами экзамена.



Выберите ОДНО из предложенных ниже заданий: 15.1 или 15.2.

15.1

Исполнитель Робот умеет перемещаться по лабиринту, начерченному на плоскости, разбитой на клетки. Между соседними (по сторонам) клетками может стоять стена, через которую Робот пройти не может.

У Робота есть девять команд. Четыре команды – это команды-приказы:

вверх **вниз** **влево** **вправо**

При выполнении любой из этих команд Робот перемещается на одну клетку соответственно: вверх ↑, вниз ↓, влево ←, вправо →. Если Робот получит команду передвижения сквозь стену, то он разрушится.

Также у Робота есть команда **закрасить**, при которой закрашивается клетка, в которой Робот находится в настоящий момент.

Ещё четыре команды – это команды проверки условий. Эти команды проверяют, свободен ли путь для Робота в каждом из четырёх возможных направлений:

сверху свободно **снизу свободно** **слева свободно** **справа свободно**

Эти команды можно использовать вместе с условием «если», имеющим следующий вид:

если условие то

последовательность команд

все

Здесь *условие* – одна из команд проверки условия.

Последовательность команд – это одна или несколько любых команд-приказов.

Например, для передвижения на одну клетку вправо, если справа нет стенки и закрашивания клетки, можно использовать такой алгоритм:

если справа свободно то

вправо

закрасить

все

В одном условии можно использовать несколько команд проверки условий, применяя логические связки **и**, **или**, **не**, например:

если (справа свободно) и (не снизу свободно) то

вправо

все

Для повторения последовательности команд можно использовать цикл «пока», имеющий следующий вид:

нц пока условие

последовательность команд

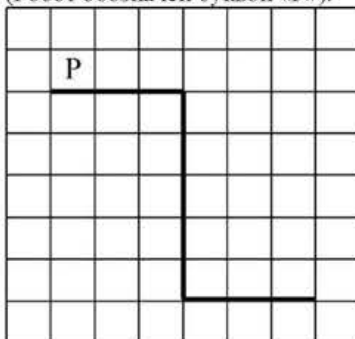
кц

Например, для движения вправо, пока это возможно, можно использовать следующий алгоритм:


```
нц пока справа свободно
  вправо
кц
```

Выполните задание.

На бесконечном поле имеется стена. Стена состоит из трёх последовательных отрезков: вправо, вниз, вправо, все отрезки **неизвестной длины**. Робот находится в клетке, расположенной над левым концом первого отрезка. На рисунке указан один из возможных способов расположения стен и Робота (Робот обозначен буквой «Р»).



Напишите для Робота алгоритм, закрашивающий все клетки, расположенные непосредственно над первым отрезком, справа от второго и угловую клетку. Робот должен закрасить только клетки, удовлетворяющие данному условию. Например, для приведённого выше рисунка Робот должен закрасить следующие клетки (см. рисунок).



Конечное положение Робота может быть произвольным. Алгоритм должен решать задачу для произвольного размера поля и любого допустимого расположения стен внутри прямоугольного поля. При исполнении алгоритма Робот не должен разрушиться.

Алгоритм может быть выполнен в среде формального исполнителя или записан в текстовом редакторе.

Сохраните алгоритм в формате программы Кумир или в текстовом файле. Название файла и каталог для сохранения Вам сообщат организаторы экзамена.

- 15.2** Напишите программу, которая в последовательности натуральных чисел определяет количество трёхзначных чисел, кратных 4. Программа получает на вход натуральные числа, количество введённых чисел неизвестно, последовательность чисел заканчивается числом 0 (0 – признак окончания ввода, не входит в последовательность). Количество чисел не превышает 1000. Введённые числа не превышают 30 000. Программа должна вывести одно число: количество трёхзначных чисел, кратных 4.

Пример работы программы:

Входные данные	Выходные данные
120	1
9	
365	
4	
0	

Номер дополнительного материала, используемого при
проведении экзамена по ИНФОРМАТИКЕ

№ КИМ	№ дополнительного материала	№ места участника <i>(заполняется вручную)</i>
	422	