

**Всероссийская проверочная работа**  
**по профильному учебному предмету «ИНФОРМАТИКА»**  
**для обучающихся первых курсов по очной форме обучения по образовательным**  
**программам среднего профессионального образования на базе основного общего**  
**образования**

**Вариант 47912**

**Инструкция по выполнению работы**

На выполнение работы по информатике отводится 2 часа 30 минут (150 минут). Работа включает в себя 15 заданий.

Ответы на задания 1–12 запишите в поля ответов в тексте работы. В случае записи неверного ответа зачеркните его и запишите рядом новый.

Результатом выполнения каждого из заданий 13–15 является отдельный файл. Формат файла, его имя и каталог для сохранения Вам сообщат организаторы.

При выполнении работы не разрешается пользоваться учебником, рабочими тетрадями и другими справочными материалами.

При необходимости можно пользоваться черновиком. Записи в черновике проверяться и оцениваться не будут.

Советуем выполнять задания в том порядке, в котором они даны. В целях экономии времени пропускайте задание, которое не удаётся выполнить сразу, и переходите к следующему. Если после выполнения всей работы у Вас останется время, то Вы сможете вернуться к пропущенным заданиям.

Баллы, полученные Вами за выполненные задания, суммируются. Постарайтесь выполнить как можно больше заданий и набрать наибольшее количество баллов.

***Желаем успеха!***

Таблица для внесения баллов участника

Номер задания	1	2	3	4	5	6	7	8	9	10	11	12	13	14	15	Сумма баллов	Отметка за работу
Баллы																	

- 1 В кодировке Windows-1251 каждый символ кодируется 8 битами.  
Вова хотел написать текст (в нём нет лишних пробелов):

«Ом, Бор, Кюри, Попов, Джоуль, Рентген, Курчатов, Резерфорд – великие физики».

Фамилию одного учёного ученик написал два раза подряд, добавив необходимые запятую и пробел. При этом размер написанного предложения в данной кодировке оказался на 7 байт больше, чем размер нужного предложения. Напишите в ответе слово, использованное дважды.

Ответ: \_\_\_\_\_.

- 2 Мальчики играли в шпионов и закодировали сообщение придуманным шифром. В сообщении присутствуют только буквы из приведённого фрагмента кодовой таблицы.

К	Л	М	Н	О	П	Р
+ 0 +	0 ~	~ +	0 + +	~	0 0 +	0 0

Расшифруйте сообщение. Получившееся слово (набор букв) запишите в качестве ответа.

~ + 0 + + 0 + + 0 0 0 ~

Ответ: \_\_\_\_\_.

- 3 Определите наибольшее натуральное число  $x$ , для которого истинно логическое выражение:  
**НЕ**  $((x \geq 23) \text{ ИЛИ } (x < 18))$ .

Ответ: \_\_\_\_\_.

4

Между населёнными пунктами А, В, С, D, Е построены дороги, протяжённость которых (в километрах) приведена в таблице.

	А	В	С	Д	Е
А		2	2		4
В	2		5		
С	2	5			1
Д					4
Е	4		1	4	

Определите длину кратчайшего пути между пунктами В и D. Передвигаться можно только по дорогам, протяжённость которых указана в таблице. Каждый пункт можно посетить только один раз.

Ответ: \_\_\_\_\_.

5

У исполнителя Удвоитель две команды, которым присвоены номера:

**1. умножь на 2**

**2. прибавь 3**

Первая из них увеличивает число на экране в 2 раза, вторая прибавляет к числу 3.

Составьте алгоритм получения из числа 4 числа 47, содержащий не более 5 команд.

В ответе запишите только номера команд.

(Например, 12211 – это алгоритм:

умножь на 2

прибавь 3

прибавь 3

умножь на 2

умножь на 2

который преобразует число 1 в 32.)

Если таких алгоритмов более одного, то запишите любой из них.

Ответ: \_\_\_\_\_.

6

Ниже приведена программа, записанная на пяти языках программирования.

Алгоритмический язык	Паскаль
<pre> алг нач цел s, t, A ввод s ввод t ввод A если s &gt; 10 или t &gt; A то вывод "YES" иначе вывод "NO" все кон </pre>	<pre> var s, t, A: integer; begin   readln(s);   readln(t);   readln(A);   if (s &gt; 10) or (t &gt; A)     then writeln("YES")     else writeln("NO") end. </pre>
Бейсик	Python
<pre> DIM s, t, A AS INTEGER INPUT s INPUT t INPUT A IF s &gt; 10 OR t &gt; A THEN   PRINT "YES" ELSE   PRINT "NO" ENDIF </pre>	<pre> s = int(input()) t = int(input()) A = int(input()) if (s &gt; 10) or (t &gt; A):   print("YES") else:   print("NO") </pre>
C++	
<pre> #include &lt;iostream&gt; using namespace std;  int main(){   int s, t, A;   cin &gt;&gt; s;   cin &gt;&gt; t;   cin &gt;&gt; A;   if (s &gt; 10) or (t &gt; A)     cout &lt;&lt; "YES" &lt;&lt; endl;   else     cout &lt;&lt; "NO" &lt;&lt; endl;   return 0; } </pre>	

Было проведено 9 запусков программы, при которых в качестве значений переменных  $s$  и  $t$  вводились следующие пары чисел:

(1, 2); (11, 2); (1, 12); (11, 12); (-11, -12); (-11, 12); (-12, 11); (10, 10); (10, 5).

Укажите количество целых значений параметра  $A$ , при которых для указанных входных данных программа напечатает «YES» шесть раз.

Ответ: \_\_\_\_\_.

7

Доступ к файлу **bit.ru**, находящемуся на сервере **htm.com**, осуществляется по протоколу **ftp**. Фрагменты адреса файла закодированы цифрами от 1 до 7. Запишите последовательность этих цифр, кодирующую адрес указанного файла в сети Интернет.

- 1) bit
- 2) .ru
- 3) /
- 4) ://
- 5) .com
- 6) htm
- 7) ftp

Ответ: \_\_\_\_\_.

8

В языке запросов поискового сервера для обозначения логической операции «ИЛИ» используется символ «|», а для логической операции «И» – символ «&».

В таблице приведены запросы и количество найденных по ним страниц некоторого сегмента сети Интернет.

Запрос	Найдено страниц (в тысячах)
<i>Сатурн</i>	3100
<i>Сатурн &amp; Нептун</i>	600
<i>Нептун</i>	2000

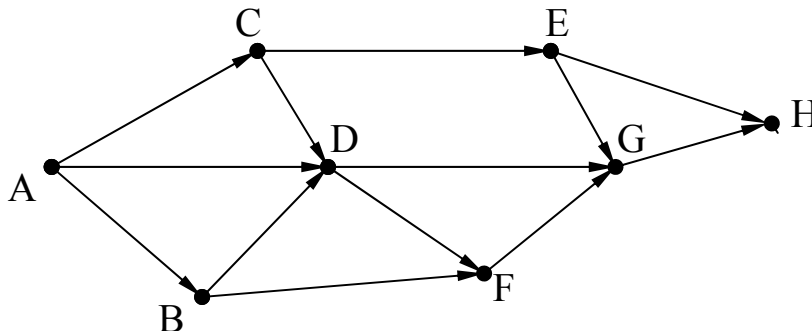
Какое количество страниц (в тысячах) будет найдено по запросу *Сатурн | Нептун*?

Считается, что все запросы выполнялись практически одновременно, так что набор страниц, содержащих все искомые слова, не изменялся за время выполнения запросов.

Ответ: \_\_\_\_\_.

9

На рисунке – схема дорог, связывающих пункты А, В, С, D, E, F, G, H. По каждой дороге можно двигаться только в одном направлении, указанном стрелкой. Сколько существует различных путей из пункта А в пункт H?



Ответ: \_\_\_\_\_.

10 Переведите двоичное число 1101100 в десятичную систему счисления.

Ответ: \_\_\_\_\_.

*Задания этой части (11–15) выполняются на компьютере. Ответами к заданиям 11, 12 являются слово или число, которые следует записать в поле ответа в тексте работы. Результатом выполнения заданий 13–15 является отдельный файл (для одного задания – один файл). Формат файла, его имя и каталог для сохранения Вам сообщат организаторы.*

11 В одном из произведений А.П. Чехова, текст которого приведён в подкаталоге каталога **Проза**, присутствует эпизод, в котором девица Подзатылкина в доме своих почтенных родителей была объявлена невестой. С помощью поисковых средств операционной системы и текстового редактора выясните фамилию жениха.

Ответ: \_\_\_\_\_.

12 Сколько файлов с расширением rtf объёмом менее 40 960 байт каждый содержится в подкаталогах каталога **ДЕМО-12**? В ответе укажите только число.

Ответ: \_\_\_\_\_.

**Выберите ОДНО из предложенных ниже заданий: 13.1 или 13.2.****13.1**

Используя информацию и иллюстративный материал, содержащийся в каталоге ЗАДАНИЕ 13, создайте презентацию из **трёх** слайдов на тему «Облепиха». В презентации должны содержаться краткие иллюстрированные сведения о растении и пример его использования в кулинарии. Все слайды должны быть выполнены в едином стиле, каждый слайд должен быть озаглавлен.

Презентацию сохраните в файле, имя которого Вам сообщат организаторы экзамена.

**Требования к оформлению презентации**

1. Ровно три слайда без анимации. Параметры страницы (слайда): экран (16:9), ориентация альбомная.

2. Содержание, структура, форматирование шрифта и размещение изображений на слайдах:

- первый слайд – титульный слайд с названием презентации, в подзаголовке титульного слайда в качестве информации об авторе презентации указывается идентификационный номер участника экзамена;

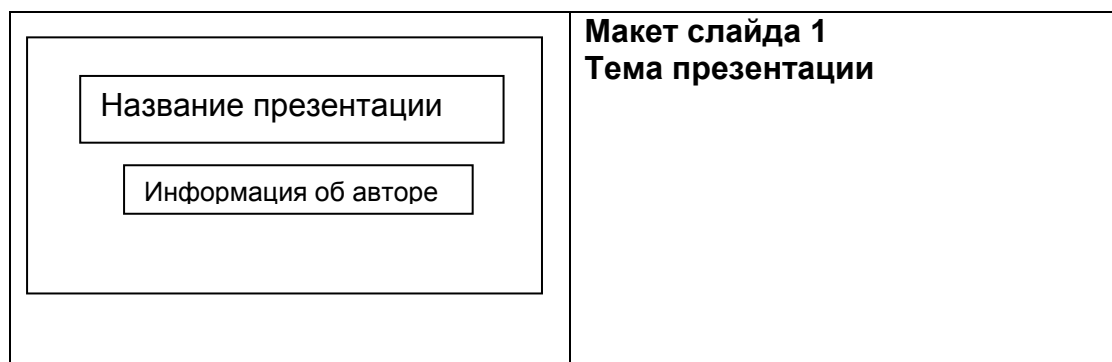
- второй слайд – основная информация в соответствии с заданием, размещённая по образцу на рисунке макета слайда 2:

- заголовок слайда;
- два блока текста;
- два изображения;

- третий слайд – дополнительная информация по теме презентации, размещённая по образцу на рисунке макета слайда 3:

- заголовок слайда;
- три изображения;
- три блока текста.

На макетах слайдов существенным является наличие всех объектов, их взаимное расположение. Выравнивание объектов, ориентация изображений выполняются произвольно в соответствии с замыслом автора работы и служат наилучшему раскрытию темы.



	<b>Макет слайда 2</b> <b>Основная информация по теме презентации</b>
	<b>Макет слайда 3</b> <b>Дополнительная информация по теме презентации</b>

В презентации должен использоваться единый тип шрифта.

Размер шрифта: для названия презентации на титульном слайде – 40 пунктов; для подзаголовка на титульном слайде и заголовков слайдов – 24 пункта; для подзаголовков на слайдах 2 и 3 и для основного текста – 20 пунктов.

Текст не должен перекрывать основные изображения или сливаться с фоном.



13.2

Создайте в текстовом редакторе документ и напишите в нём следующий текст, точно воспроизведя всё оформление текста, имеющееся в образце.

Данный текст должен быть набран шрифтом размером 14 пунктов обычного начертания. Отступ первой строки первого абзаца основного текста – 1 см. Расстояние между строками текста не менее высоты одинарного, но не более полуторного междустрочного интервала. Основной текст выровнен по ширине; заголовок и текст в ячейках второго столбца таблицы – по центру. Текст в ячейках первого столбца таблицы выровнен по левому краю. В основном тексте и таблице есть слова, выделенные полужирным шрифтом и курсивом или подчёркиванием. Ширина таблицы меньше ширины основного текста. Таблица выровнена на странице по центру.

При этом допустимо, чтобы ширина Вашего текста отличалась от ширины текста в примере, поскольку ширина текста зависит от размеров страницы и полей. В этом случае разбиение текста на строки должно соответствовать стандартной ширине абзаца.

Интервал между текстом и таблицей не менее 12 пунктов, но не более 24 пунктов.

Текст сохраните в файле, имя которого Вам сообщат организаторы.

---

### **ЧЕРНИЧНОЕ ВАРЕНЬЕ-ПЯТИМИНУТКА**

<i><b>Ингредиенты</b></i>	<i><b>Количество</b></i>
Ягоды черники	300 г
Сахар	300 г

Ягоды хорошо промойте под проточной водой. Оставьте на 5–10 минут, чтобы вода стекла. Переложите *чернику* в сотейник, в котором будете варить варенье. Засыпьте ягоды сахаром и оставьте на 1–2 часа. На среднем огне доведите содержимое сотейника до кипения, периодически помешивая деревянной ложкой. Уменьшите огонь и проварите варенье ровно 5 минут. Разлейте горячее варенье по стерильным банкам и закатайте банки.

При приготовлении этого десерта важно использовать ингредиенты в указанном количестве.

14

В электронную таблицу занесли информацию о грузоперевозках, совершённых некоторым автопредприятием с 1 по 9 октября. Ниже приведены первые пять строк таблицы.

	<b>А</b>	<b>В</b>	<b>С</b>	<b>Д</b>	<b>Е</b>	<b>Ф</b>
<b>1</b>	<b>Дата</b>	<b>Пункт отправления</b>	<b>Пункт назначения</b>	<b>Расстояние</b>	<b>Расход бензина</b>	<b>Масса груза</b>
<b>2</b>	1 октября	Липки	Берёзки	432	63	770
<b>3</b>	1 октября	Орехово	Дубки	121	17	670
<b>4</b>	1 октября	Осинки	Вязово	333	47	830
<b>5</b>	1 октября	Липки	Вязово	384	54	730

Каждая строка таблицы содержит запись об одной перевозке.

В столбце А записана дата перевозки (от «1 октября» до «9 октября»); в столбце В – название населённого пункта отправления перевозки; в столбце С – название населённого пункта назначения перевозки; в столбце Д – расстояние, на которое была осуществлена перевозка (в километрах); в столбце Е – расход бензина на всю перевозку (в литрах); в столбце F – масса перевезённого груза (в килограммах).

Всего в электронную таблицу были занесены данные по 370 перевозкам в хронологическом порядке.

**Выполните задание.**

Откройте файл с данной электронной таблицей (расположение файла Вам сообщат организаторы экзамена). На основании данных, содержащихся в этой таблице, выполните задания.

1. Какой суммарный расход бензина был при осуществлении перевозок со 2 по 4 октября? Ответ на этот вопрос запишите в ячейку Н2 таблицы.
2. Какова средняя масса груза при автоперевозках, осуществлённых в город Дубки? Ответ на этот вопрос запишите в ячейку Н3 таблицы с точностью не менее одного знака после запятой.
3. Постройте круговую диаграмму, отображающую соотношение количества перевозок в города Берёзки, Буково, Вязово. Левый верхний угол диаграммы разместите вблизи ячейки G6. В поле диаграммы должны присутствовать легенда (обозначение, какой сектор диаграммы соответствует каким данным) и числовые значения данных, по которым построена диаграмма.

Полученную таблицу необходимо сохранить под именем, указанным организаторами экзамена.

**Выберите ОДНО из предложенных ниже заданий: 15.1 или 15.2.**

15.1

Исполнитель Робот умеет перемещаться по лабиринту, начерченному на плоскости, разбитой на клетки. Между соседними (по сторонам) клетками может стоять стена, через которую Робот пройти не может.

У Робота есть девять команд. Четыре команды – это команды-приказы:

**вверх вниз влево вправо**

При выполнении любой из этих команд Робот перемещается на одну клетку соответственно: вверх ↑, вниз ↓, влево ←, вправо →. Если Робот получит команду передвижения сквозь стену, то он разрушится.

Также у Робота есть команда **закрасить**, при которой закрашивается клетка, в которой Робот находится в настоящий момент.

Ещё четыре команды – это команды проверки условий. Эти команды проверяют, свободен ли путь для Робота в каждом из четырёх возможных направлений:

**сверху свободно снизу свободно слева свободно справа свободно**

Эти команды можно использовать вместе с условием «если», имеющим следующий вид:

**если условие то**

*последовательность команд*

**все**

Здесь *условие* – одна из команд проверки условия.

*Последовательность команд* – это одна или несколько любых команд-приказов.

Например, для передвижения на одну клетку вправо, если справа нет стенки и закрашивания клетки, можно использовать такой алгоритм:

**если справа свободно то**

**вправо**

**закрасить**

**все**

В одном условии можно использовать несколько команд проверки условий, применяя логические связки **и**, **или**, **не**, например:

**если (справа свободно) и (не снизу свободно) то**

**вправо**

**все**

Для повторения последовательности команд можно использовать цикл «пока», имеющий следующий вид:

**нц пока условие**

*последовательность команд*

**кц**

Например, для движения вправо, пока это возможно, можно использовать следующий алгоритм:

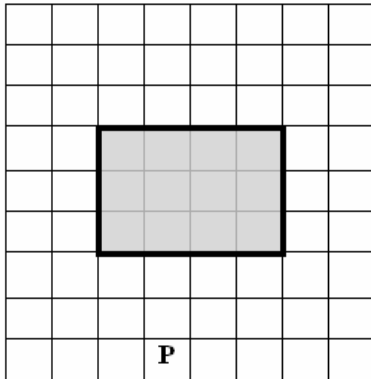
**нц пока справа свободно**

**вправо**

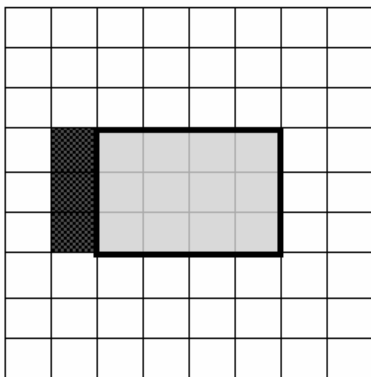
**кц**

**Выполните задание.**

На бесконечном поле имеется препятствие прямоугольной формы. Размеры препятствия неизвестны. Робот находится в какой-либо клетке, расположенной строго под препятствием. На рисунке указан один из возможных способов расположения препятствия и Робота (Робот обозначен буквой «Р»):



Напишите для Робота алгоритм, закрашивающий клетки, расположенные левее от прямоугольного препятствия и прилегающие к нему. Робот должен закрасить только клетки, удовлетворяющие данному условию. Например, для приведённого выше рисунка Робот должен закрасить следующие клетки (см. рисунок):



Конечное расположение Робота может быть произвольным. Алгоритм должен решать задачу для произвольного размера поля и любого допустимого расположения стен внутри прямоугольного поля. При исполнении алгоритма Робот не должен разрушиться.

Алгоритм может быть выполнен в среде формального исполнителя или записан в текстовом редакторе.

Сохраните алгоритм в формате программы Кумир или в текстовом файле. Название файла и каталог для сохранения Вам сообщат организаторы экзамена.

15.2

Напишите программу, которая в последовательности натуральных чисел определяет количество чисел, кратных 6 и оканчивающихся на 2. Программа получает на вход количество чисел в последовательности, а затем сами числа.

Количество чисел не превышает 1000. Введённые числа по модулю не превышают 30 000.

Программа должна вывести одно число: количество чисел, кратных 6 и оканчивающихся на 2.

**Пример работы программы:**

Входные данные	Выходные данные
3	2
12	
25	
42	