

**Всероссийская проверочная работа**  
**по профильному учебному предмету «ИНФОРМАТИКА»**  
**для обучающихся первых курсов по очной форме обучения по образовательным**  
**программам среднего профессионального образования на базе основного общего**  
**образования**

**Инструкция по выполнению работы**

На выполнение работы по информатике отводится 2 часа 30 минут (150 минут). Работа включает в себя 15 заданий.

Ответы на задания 1–12 запишите в поля ответов в тексте работы. В случае записи неверного ответа зачеркните его и запишите рядом новый.

Результатом выполнения каждого из заданий 13–15 является отдельный файл. Формат файла, его имя и каталог для сохранения Вам сообщат организаторы.

При выполнении работы не разрешается пользоваться учебником, рабочими тетрадями и другими справочными материалами.

При необходимости можно пользоваться черновиком. Записи в черновике проверяться и оцениваться не будут.

Советуем выполнять задания в том порядке, в котором они даны. В целях экономии времени пропускайте задание, которое не удаётся выполнить сразу, и переходите к следующему. Если после выполнения всей работы у Вас останется время, то Вы сможете вернуться к пропущенным заданиям.

Баллы, полученные Вами за выполненные задания, суммируются. Постарайтесь выполнить как можно больше заданий и набрать наибольшее количество баллов.

***Желаем успеха!***

Таблица для внесения баллов участника

Номер задания	1	2	3	4	5	6	7	8	9	10	11	12	13	14	15	Сумма баллов	Отметка за работу
Баллы																	

- 1 В кодировке КОИ-8 каждый символ кодируется 8 битами.  
Вова написал текст (в нём нет лишних пробелов):

«Бор, азот, гелий, натрий, водород, кислород, рентгений, менделевий, резерфордий – химические элементы».

Ученик вычеркнул из списка название одного химического элемента. Заодно он вычеркнул ставшие лишними запятую и пробел – два пробела не должны идти подряд.

При этом размер нового предложения в данной кодировке оказался на 11 байт меньше, чем размер исходного предложения. Напишите в ответе вычеркнутое название элемента.

Ответ: \_\_\_\_\_.

- 2 От разведчика была получена следующая шифрованная радиограмма, переданная с использованием азбуки Морзе.

-----•••••

При передаче радиограммы было потеряно разбиение на буквы, но известно, что использовались только следующие буквы.

Е	Н	О	З	Щ
•	-•	---	--••	--•-

Определите текст радиограммы. В ответе укажите буквы, которые встречаются в тексте радиограммы более одного раза.

Ответ: \_\_\_\_\_.

- 3 Напишите наименьшее натуральное число  $x$ , для которого ИСТИННО высказывание:  $(x > 2)$  И НЕ  $(x > 3)$ .

Ответ: \_\_\_\_\_.

4

Между населёнными пунктами А, В, С, D, E, F построены дороги, протяжённость которых (в километрах) приведена в таблице.

	A	B	C	D	E	F
A		3	5			15
B	3		3			
C	5	3		5	2	
D			5			3
E			2			7
F	15			3	7	

Определите длину кратчайшего пути между пунктами А и F. Передвигаться можно только по дорогам, указанным в таблице. Каждый пункт можно посетить только один раз.

Ответ: \_\_\_\_\_.

5

У исполнителя Вычислитель две команды, которым присвоены номера:

**1. умножь на 2**

**2. прибавь 1**

Первая из них увеличивает число на экране в 2 раза, вторая увеличивает его на 1.

Составьте алгоритм получения из числа **2** числа **14**, содержащий не более 4 команд.

В ответе запишите только номера команд.

(Например, 12121 – это алгоритм:

умножь на 2

прибавь 1

умножь на 2

прибавь 1

умножь на 2

который преобразует число 3 в 30.)

Если таких алгоритмов более одного, то запишите любой из них.

Ответ: \_\_\_\_\_.

6

Ниже приведена программа, записанная на пяти языках программирования.

Алгоритмический язык	Паскаль
<pre> алг нач цел s, t, A ввод s ввод t ввод A если s &gt; A или t &gt; 12   то вывод "YES"   иначе вывод "NO" все кон </pre>	<pre> var s, t, A: integer; begin   readln(s);   readln(t);   readln(A);   if (s &gt; A) or (t &gt; 12)   then     writeln("YES")   else     writeln("NO") end. </pre>
Бейсик	Python
<pre> DIM s, t, A AS INTEGER INPUT s INPUT t INPUT A IF s &gt; A OR t &gt; 12 THEN   PRINT "YES" ELSE   PRINT "NO" ENDIF </pre>	<pre> s = int(input()) t = int(input()) A = int(input()) if (s &gt; A) or (t &gt; 12):   print("YES") else:   print("NO") </pre>
C++	
<pre> #include &lt;iostream&gt; using namespace std;  int main() {   int s, t, A;   cin &gt;&gt; s;   cin &gt;&gt; t;   cin &gt;&gt; A;   if (s &gt; A) or (t &gt; 12)     cout &lt;&lt; "YES" &lt;&lt; endl;   else     cout &lt;&lt; "NO" &lt;&lt; endl;   return 0; } </pre>	

Было проведено 9 запусков программы, при которых в качестве значений переменных  $s$  и  $t$  вводились следующие пары чисел:

(13, 2); (11, 12); (-12, 12); (2, -2); (-10, -10); (6, -5); (2, 8); (9, 10); (1, 13).

Укажите наибольшее целое значение параметра  $A$ , при котором для указанных входных данных программа напечатает «YES» два раза.

Ответ: \_\_\_\_\_.

7

Доступ к файлу **foto.jpg**, находящемуся на сервере **foto.ru**, осуществляется по протоколу **ftp**. В таблице фрагменты адреса файла закодированы цифрами от 1 до 7. Запишите последовательность этих цифр, кодирующую адрес указанного файла в сети Интернет.

- 1) foto.ru
- 2) :
- 3) ftp
- 4) //
- 5) .jpg
- 6) foto
- 7) /

Ответ: \_\_\_\_\_.

8

В языке запросов поискового сервера для обозначения логической операции «ИЛИ» используется символ «|», а для обозначения логической операции «И» – символ «&». В таблице приведены запросы и количество найденных по ним страниц некоторого сегмента сети Интернет.

Запрос	Найдено страниц (в тысячах)
<i>Скорпион   Козерог</i>	3100
<i>Козерог</i>	1700
<i>Скорпион &amp; Козерог</i>	800

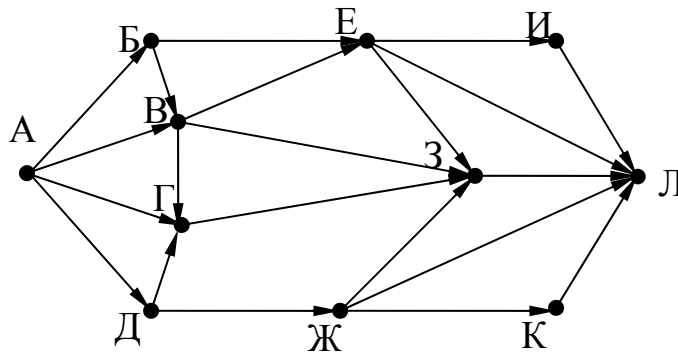
Какое количество страниц (в тысячах) будет найдено по запросу *Скорпион*?

Считается, что все запросы выполнялись практически одновременно, так что набор страниц, содержащих все искомые слова, не изменялся за время выполнения запросов.

Ответ: \_\_\_\_\_.

9

На рисунке – схема дорог, связывающих города А, Б, В, Г, Д, Е, Ж, З, И, К и Л. По каждой дороге можно двигаться только в одном направлении, указанном стрелкой. Сколько существует различных путей из города А в город Л?



Ответ: \_\_\_\_\_.

10

Переведите число 125 из десятичной системы счисления в двоичную систему счисления. Сколько единиц содержит полученное число?  
В ответе укажите одно число – количество единиц.

Ответ: \_\_\_\_\_.

*Задания этой части (11–15) выполняются на компьютере. Ответами к заданиям 11, 12 являются слово или число, которые следует записать в поле ответа в тексте работы. Результатом выполнения заданий 13–15 является отдельный файл (для одного задания – один файл). Формат файла, его имя и каталог для сохранения Вам сообщат организаторы.*

11

В одном из произведений А.П. Чехова, текст которого приведён в подкаталоге каталога **Проза**, присутствует эпизод, в котором щенок «взятый приучаться», услышал выстрел и поджал хвост. С помощью поисковых средств операционной системы и текстового редактора выясните кличку этого щенка.

Ответ: \_\_\_\_\_.

12

Сколько файлов с расширением pdf, каждый объёмом от 2048 Кб до 3072 Кб включительно, содержится в подкаталогах каталога **ДЕМО-12**? В ответе укажите только число.

Ответ: \_\_\_\_\_.

**ви 00 атребьВ****13.1**

Используя информацию и иллюстративный материал, содержащийся в каталоге DEMO-13, создайте презентацию из трёх слайдов на тему «Ондатра». В презентации должны содержаться краткие иллюстрированные сведения о внешнем виде, ареале обитания, образе жизни и рационе ондатр. Все слайды должны быть выполнены в едином стиле, каждый слайд должен быть озаглавлен.

Презентацию сохраните в файле, имя которого Вам сообщат организаторы экзамена.

**Требования к оформлению работы**

1. Ровно три слайда без анимации. Параметры страницы (слайда): экран (16:9), ориентация альбомная.

2. Содержание, структура, форматирование шрифта и размещение изображений на слайдах:

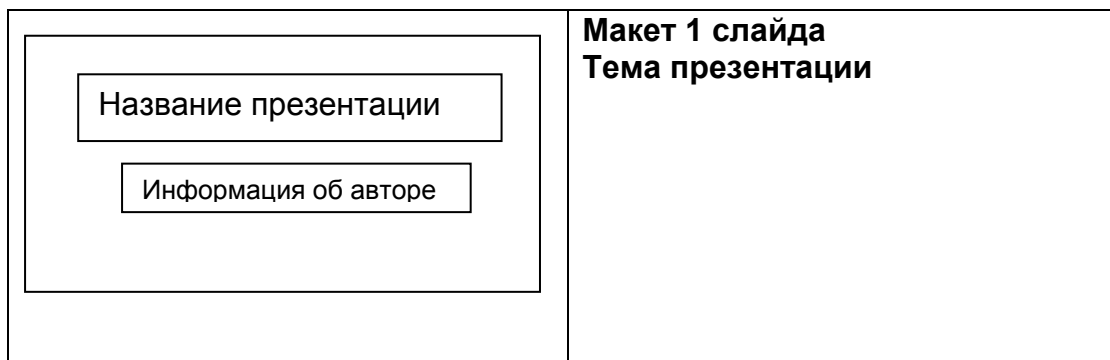
- первый слайд – титульный слайд с названием презентации, в подзаголовке титульного слайда в качестве информации об авторе презентации указывается идентификационный номер участника экзамена;



- второй слайд – основная информация в соответствии с заданием, размещённая по образцу на рисунке макета слайда 2:

- заголовок слайда;
- два изображения;
- два блока текста;

- третий слайд – дополнительная информация по теме презентации, размещённая по образцу на рисунке макета слайда 3:

- заголовок слайда;
- три изображения;
- три блока текста.



	<p><b>Макет 2 слайда</b>  <b>Основная информация по теме презентации</b></p>
	<p><b>Макет 3 слайда</b>  <b>Дополнительная информация по теме презентации</b></p>

В презентации должен использоваться единый тип шрифта.

Размер шрифта для названия презентации на титульном слайде – 40 пунктов, для подзаголовка на титульном слайде и заголовков слайдов – 24 пункта, для подзаголовков на втором и третьем слайдах и для основного текста – 20 пунктов.

Текст не должен перекрывать основные изображения и сливаться с фоном.



13.2

Создайте в текстовом редакторе документ и напишите в нём следующий текст, точно воспроизведя всё оформление текста, имеющееся в образце.

Данный текст должен быть набран шрифтом размером 14 пунктов обычного начертания. Отступ первой строки первого абзаца основного текста – 1 см. Расстояние между строками текста не менее высоты одинарного, но не более полуторного междустрочного интервала. Основной текст выровнен по ширине; заголовок и текст в ячейках второго столбца таблицы – по центру. Текст в ячейках первого столбца таблицы выровнен по левому краю. В основном тексте и таблице есть слова, выделенные полужирным шрифтом и курсивом или подчёркиванием. Ширина таблицы меньше ширины основного текста. Таблица выровнена на странице по центру.

При этом допустимо, чтобы ширина Вашего текста отличалась от ширины текста в примере, поскольку ширина текста зависит от размеров страницы и полей. В этом случае разбиение текста на строки должно соответствовать стандартной ширине абзаца.

Интервал между текстом и таблицей не менее 12 пунктов, но не более 24 пунктов.

Текст сохраните в файле, имя которого Вам сообщат организаторы.

### **ТЫКВЕННО-МОРКОВНЫЙ СУП С ЯБЛОКОМ И ЧЕЧЕВИЦЕЙ**

<i>Ингредиенты</i>	<i>Количество (на 4 порции)</i>
Тыква	200 г
Яблоко (кислое)	200 г
Морковь	200 г
Лук репчатый	1 шт.
Чеснок	3 зубчика
Шалфей	4 листа
Чечевица (красная)	100 г
Соль	по вкусу
Перец розовый	по вкусу

Лук и чеснок мелко нарезать, налить на дно кастрюли немного воды и тушить в ней лук с чесноком до прозрачности. Тыкву и морковь нарезать на кусочки, добавить к луку и чесноку, тушить 5 минут. Добавить яблоки, нарезанные на кусочки, воду и *шалфей*, всыпать промытую чечевицу. Тушить на медленном огне 20 минут. Удалить шалфей, сделать из смеси пюре. Подавать с розовым перцем.

14

В электронную таблицу занесли результаты тестирования учащихся по математике и физике. На рисунке приведены первые строки получившейся таблицы.

	<b>A</b>	<b>B</b>	<b>C</b>	<b>D</b>
<b>1</b>	<i>Ученик</i>	<i>Район</i>	<i>Математика</i>	<i>Физика</i>
<b>2</b>	Шамшин Владислав	Майский	65	79
<b>3</b>	Гришин Борис	Заречный	52	30
<b>4</b>	Огородников Николай	Подгорный	60	27
<b>5</b>	Богданов Виктор	Центральный	98	86

В столбце А указаны фамилия и имя учащегося; в столбце В – район города, в котором расположена школа учащегося; в столбцах С, D – баллы, полученные соответственно по математике и физике. По каждому предмету можно было набрать от 0 до 100 баллов. Всего в электронную таблицу были занесены данные по 1000 учащимся. Порядок записей в таблице произвольный.

**Выполните задание.**

Откройте файл с данной электронной таблицей (расположение файла Вам сообщат организаторы экзамена). На основании данных, содержащихся в этой таблице, выполните задания.

1. Чему равна наименьшая сумма баллов у учеников Подгорного района? Ответ на этот вопрос запишите в ячейку G2 таблицы.
2. Сколько участников тестирования набрали одинаковое количество баллов по математике и физике? Ответ на этот вопрос запишите в ячейку G3 таблицы.
3. Постройте круговую диаграмму, отображающую соотношение числа участников из Майского, Заречного и Кировского районов. Левый верхний угол диаграммы разместите вблизи ячейки G6. В поле диаграммы должны присутствовать легенда (обозначение, какой сектор диаграммы соответствует каким данным) и числовые значения данных, по которым построена диаграмма.

Полученную таблицу необходимо сохранить под именем, указанным организаторами экзамена.

ви **010** *впр* **1.51** : *йнадаз* *эти* *хнн*

2.

15.1

Исполнитель Робот умеет перемещаться по лабиринту, начерченному на плоскости, разбитой на клетки. Между соседними (по сторонам) клетками может стоять стена, через которую Робот пройти не может.

У Робота есть девять команд. Четыре команды – это команды-приказы:

**вверх вниз влево вправо**

При выполнении любой из этих команд Робот перемещается на одну клетку соответственно: вверх ↑, вниз ↓, влево ←, вправо →. Если Робот получит команду передвижения сквозь стену, то он разрушится.

Также у Робота есть команда **закрасить**, при которой закрашивается клетка, в которой Робот находится в настоящий момент.

Ещё четыре команды – это команды проверки условий. Эти команды проверяют, свободен ли путь для Робота в каждом из четырёх возможных направлений:

**сверху свободно снизу свободно слева свободно справа свободно**

Эти команды можно использовать вместе с условием «если», имеющим следующий вид:

**если условие то**

*последовательность команд*

**все**

Здесь *условие* – одна из команд проверки условия.

*Последовательность команд* – это одна или несколько любых команд-приказов.

Например, для передвижения на одну клетку вправо, если справа нет стенки, и закрашивания клетки можно использовать такой алгоритм:

**если справа свободно то**

**вправо**

**закрасить**

**все**

В одном условии можно использовать несколько команд проверки условий, применяя логические связки **и**, **или**, **не**, например:

**если (справа свободно) и (не снизу свободно) то**

**вправо**

**все**

Для повторения последовательности команд можно использовать цикл «пока», имеющий следующий вид:

**нц пока условие**

*последовательность команд*

**кц**

Например, для движения вправо, пока это возможно, можно использовать следующий алгоритм:


**нц пока справа свободно**

**вправо**

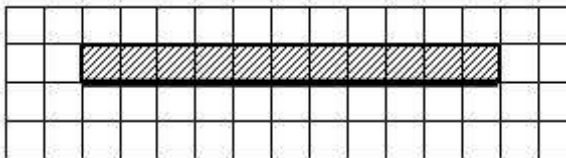
**кц**

**Выполните задание.**

На бесконечном поле имеется длинная горизонтальная стена. **Длина стены неизвестна.** Робот находится в одной из клеток непосредственно сверху от стены. **Начальное положение Робота также неизвестно.** Одно из возможных положений Робота приведено на рисунке (Робот обозначен буквой «Р»):



Напишите алгоритм для Робота, закрашивающий все клетки, расположенные выше стены и прилегающие к ней, независимо от размера стены и начального расположения Робота. Робот должен закрасить только клетки, удовлетворяющие заданному условию. Например, для приведённого выше рисунка Робот должен закрасить следующие клетки:



Конечное расположение Робота может быть произвольным. Алгоритм должен решать задачу для произвольного размера поля и любого допустимого расположения стен внутри прямоугольного поля. При исполнении алгоритма Робот не должен разрушиться.

Алгоритм может быть выполнен в среде формального исполнителя или записан в текстовом редакторе.

Сохраните алгоритм в формате программы Кумир или в текстовом файле. Название файла и каталог для сохранения Вам сообщат организаторы экзамена.

15.2

Напишите программу, которая в последовательности натуральных чисел определяет максимальное число, кратное 4. Программа получает на вход количество чисел в последовательности, а затем сами числа. В последовательности всегда имеется число, кратное 4.

Количество чисел не превышает 1000. Введённые числа не превышают 30 000.

Программа должна вывести одно число – максимальное число, кратное 4.

**Пример работы программы:**

Входные данные	Выходные данные
3	16
8	
16	
11	

Логин ОО
----------

### Система оценивания проверочной работы

Правильный ответ на каждое из заданий 1–12 оценивается 1 баллом.

Номер задания	Правильный ответ
1	РЕНТГЕНИЙ
2	HE; EH
3	3
4	13
5	2121
6	12
7	3241765
8	2200
9	18
10	6
11	ТЩЕТНЫЙ
12	5

**Критерии оценивания выполнения заданий с развернутым ответом**

13.1

<b>Содержание верного ответа и указания по оцениванию</b> (допускаются иные формулировки ответа, не искажающие его смысла)		<b>Баллы</b>
Представлена презентация из трёх слайдов по заданной теме, соответствующая условию задания по структуре, содержанию и форме		2
<b>Структура</b>	Презентация состоит ровно из трёх слайдов. Информация на слайдах размещена по образцу на рисунках макетов соответствующих слайдов согласно заданию. Презентация имеет название, которое вынесено на титульный слайд. Слайды 2 и 3 имеют заголовки, отвечающие теме презентации и содержанию слайдов. Изображения и текст соответствуют теме презентации в целом и содержанию каждого конкретного слайда. Текст может быть скопирован из текстового файла в условии задачи либо создан автором решения в соответствии с темой презентации	
<b>Шрифт</b>	В презентации используется единый тип шрифта. Размер шрифта для названия презентации на титульном слайде – 40 пт., для подзаголовка на титульном слайде и заголовков слайдов – 24 пт., для подзаголовков на втором и третьем слайдах и для основного текста – 20 пт. Текст не перекрывает основные изображения, не сливается с фоном	
<b>Изображения</b>	Изображения размещены на слайдах согласно заданию, соответствуют содержанию слайдов. Изображения не искажены при масштабировании (пропорции сохранены). Изображения не перекрывают текст или заголовков друг друга	
Представлена презентация из трёх слайдов, при этом второй и третий слайды содержат иллюстрации и текстовые блоки, соответствующие заданной теме. В презентации допущено суммарно не более одной ошибки в структуре слайда, или в выборе шрифта, или при размещении изображений. Однотипные ошибки считаются за одну систематическую. ИЛИ Представлена презентация из двух слайдов по заданной теме, в которой нет ошибок по структуре, выбору шрифта или при размещении изображений		1
Не выполнены условия, соответствующие критериям на 1 или 2 балла		0
<i>Максимальный балл</i>		2

13.2

<b>Содержание верного ответа и указания по оцениванию</b> (допускаются иные формулировки ответа, не искажающие его смысла)		
Правильным решением является текст, соответствующий заданному образцу		
<b>Указания по оцениванию</b>		<b>Баллы</b>
Задание выполнено правильно. При проверке задания контролируется выполнение следующих элементов		2
<b>Основной текст</b>	<ul style="list-style-type: none"> <li>– Текст набран шрифтом размером 14 пунктов.</li> <li>– Верно выделены <b>все</b> необходимые слова полужирным, курсивным или подчеркнутым шрифтом.</li> <li>– Междустрочный интервал не менее одинарного, но не более полуторного. Интервал между текстом и таблицей должен быть не менее 12 пунктов, но не более 24 пунктов.</li> <li>– Текст в абзаце выровнен по ширине.</li> <li>– Правильно установлен отступ первой строки (1 см), не допускается использование пробелов для задания отступа первой строки.</li> <li>– Разбиение текста на строки осуществляется текстовым редактором (не используются разрывы строк для перехода на новую строку).</li> <li>– Допускается всего <b>не более пяти ошибок</b>, среди них: орфографических, пунктуационных в расстановке пробелов между словами, знаками препинания; пропущенные слова</li> </ul>	
<b>Таблица</b>	<ul style="list-style-type: none"> <li>– Таблица имеет необходимое количество строк и столбцов.</li> <li>– Текст в ячейках заголовка таблицы набран полужирным курсивным шрифтом.</li> <li>– Текст в ячейках заголовка и второго столбца таблицы выровнен по центру.</li> <li>– Текст в ячейках первого столбца, кроме заголовка, выровнен по левому краю.</li> <li>– Ширина таблицы меньше ширины основного текста, таблица выровнена по центру страницы.</li> <li>– Допускается всего <b>не более трёх</b> ошибок: орфографических, пунктуационных, а также в расстановке пробелов между словами, знаками препинания; пропущенные слова</li> </ul>	
<p>Не выполнены условия, позволяющие поставить 2 балла. При выполнении <b>каждого</b> элемента задания (основного текста или таблицы) допущено <b>не более трёх</b> нарушений требований, перечисленных выше. <b>ИЛИ</b> Полностью верно выполнен основной текст, а количество ошибок, допущенных в таблице, превышает три, либо таблица отсутствует. <b>ИЛИ</b> Таблица выполнена полностью верно, но отсутствует основной текст, либо количество ошибок в основном тексте превышает три. <i>Оценка в 1 балл также ставится в случае, если задание в целом выполнено верно, но имеются существенные расхождения с образцом из условия, например вертикальный интервал между текстом и таблицей более высоты полутора строк текста или столбцы (строки) таблицы выполнены явно непропорционально</i></p>		1
Не выполнены условия, позволяющие поставить 1 или 2 балла		0
<i>Максимальный балл</i>		2

14

**Содержание верного ответа и указания по оцениванию**

(допускаются иные формулировки ответа, не искажающие его смысла)

Алгоритмы решения задач для OpenOffice.org Calc и Microsoft Excel совпадают. Формулы написаны для обеих электронных таблиц. Второй вариант – для OpenOffice.org Calc.

В столбце E для каждого учащегося вычислим сумму баллов по двум предметам, если это ученик Подгорного района. Для ученика другого района ячейка будет содержать пустую строку. Для этого в ячейку E2 запишем формулу

```
=ЕСЛИ(B2="Подгорный";C2+D2;"")
```

```
=IF(B2="Подгорный";C2+D2;"")
```

Скопируем формулу во все ячейки диапазона E3:E1001. Благодаря использованию относительных ссылок в столбце E в строках 2–1001 будут записаны суммы баллов учеников Подгорного района.

Чтобы найти наименьшую сумму баллов, в ячейку G2 запишем формулу

```
=МИН(E2:E1001)
```

```
=MIN(E2:E1001)
```

Для ответа на второй вопрос будем использовать дополнительный столбец F, в ячейках которого для каждого участника проверим совпадение баллов по физике и математике. В F2 впишем формулу

```
=ЕСЛИ(C2=D2;1;0)
```

```
=IF(C2=D2;1;0)
```

Скопируем формулу из F2 во все ячейки диапазона F3:F1001. Благодаря использованию относительных ссылок в столбце F в строках 2–1001 будет записано 1 при совпадении баллов и 0 – при несовпадении. Сумма значений ячеек диапазона F2:F1001 даст нам искомое количество совпадений баллов:

```
=СУММ(F2:F1001)
```

```
=SUM(F2:F1001)
```

Возможны и другие способы решения задачи.

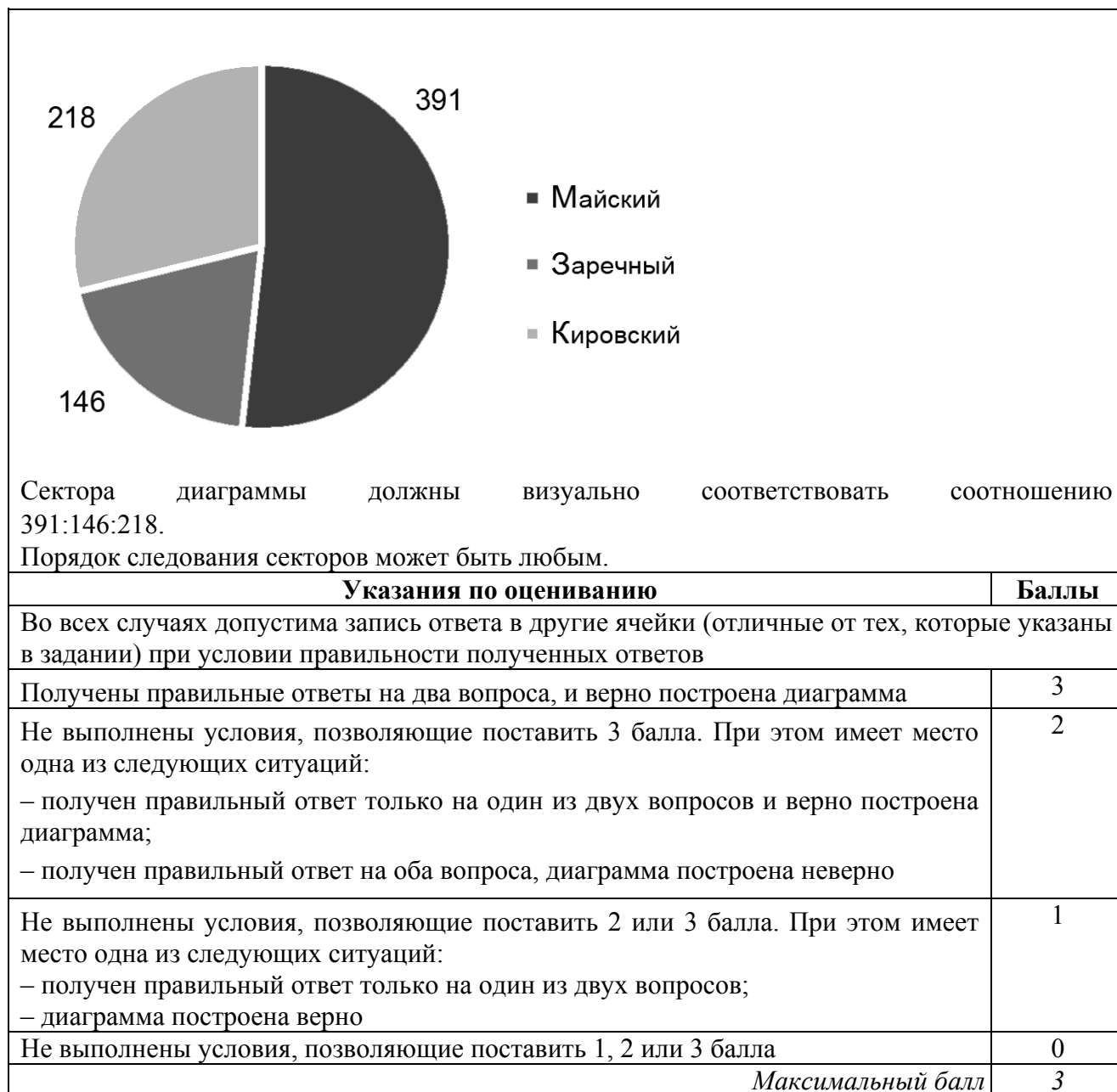
Если задание выполнено правильно и при выполнении задания использовались файлы, специально подготовленные для проверки выполнения данного задания, то должны получиться следующие ответы:

на первый вопрос: 21;

на второй вопрос: 52;

на третье задание:





15.1

<b>Содержание верного ответа и указания по оцениванию</b> (допускаются иные формулировки ответа, не искажающие его смысла)	
<p>Команды исполнителя будем записывать жирным шрифтом, а комментарии, поясняющие алгоритм и не являющиеся его частью, — курсивом. Начало комментария будем обозначать символом « ».</p> <p><i>  Сначала будем двигаться вправо, пока не дойдём до ячейки, ниже которой нет стены</i></p> <p><b>нц пока не снизу свободно</b> <b>вправо</b></p> <p><b>кц</b></p> <p><i>  Теперь можно перейти влево и оказаться выше стены у самого правого ее конца.</i></p> <p><b>влево</b></p> <p><i>  Теперь будем идти влево вдоль стены, закрашивая все ячейки</i></p> <p><b>нц пока не снизу свободно</b> <b>закрасить</b> <b>влево</b></p> <p><b>кц</b></p> <p>Возможны и другие варианты решения.</p> <p>Допускается использование иного синтаксиса инструкций исполнителя, более привычного для учащихся. В частности, использование проверки «справа стена» вместо «не справа свободно».</p> <p>Допускается наличие отдельных синтаксических ошибок, не искажающих замысла автора решения</p>	

<b>Указания по оцениванию</b>	<b>Баллы</b>
Алгоритм правильно работает при всех допустимых исходных данных	2
При всех допустимых исходных данных верно следующее: 1) выполнение алгоритма завершается, и при этом Робот не разбивается; 2) закрашено не более 10 лишних клеток; 3) остались незакрашенными не более 10 клеток из числа тех, которые должны были быть закрашены	1
Задание выполнено неверно, т.е. не выполнены условия, позволяющие поставить 1 или 2 балла	0
<i>Максимальный балл</i>	2

15.2

**Содержание верного ответа и указания по оцениванию**

(допускаются иные формулировки ответа, не искажающие его смысла)

Решением является программа, записанная на любом языке программирования. Пример верного решения, записанного на языке Паскаль:

```
var n,i,a,max: integer;
begin
  readln(n);
  max := -1;
  for i := 1 to n do
    begin
      readln(a);
      if (a mod 4 = 0) and (a > max)
        then max := a;
    end;
  writeln(max)
end.
```

Возможны и другие варианты решения.

Для проверки правильности работы программы необходимо использовать следующие тесты:

№	Входные данные	Выходные данные
1	2 4 6	4
2	3 12 20 16	20
3	4 4 44 24 40	44

Указания по оцениванию	Баллы
Предложено верное решение. Программа правильно работает на всех приведённых выше тестах. Программа может быть записана на любом языке программирования	2
Программа выдаёт неверный ответ на одном из тестов, приведённых выше.	1
Программа выдаёт на тестах неверные ответы, отличные от описанных в критерии на 1 балл	0
<i>Максимальный балл</i>	2

**Система оценивания выполнения всей работы**

Максимальный балл за выполнение работы – 19.

*Рекомендации по переводу первичных баллов в отметки по пятибалльной шкале*

Отметка по пятибалльной шкале	«2»	«3»	«4»	«5»
Первичные баллы	0–4	5–10	11–16	17–19